

Examen Anatomía Temas 5 y 6

Nombre: _____

Fecha: _____

(Las preguntas subrayadas son obligatorias. Del resto se seleccionarán 3 más de forma aleatoria en el momento de realizar el examen)

T5: Sistema tegumentario y membranas corporales

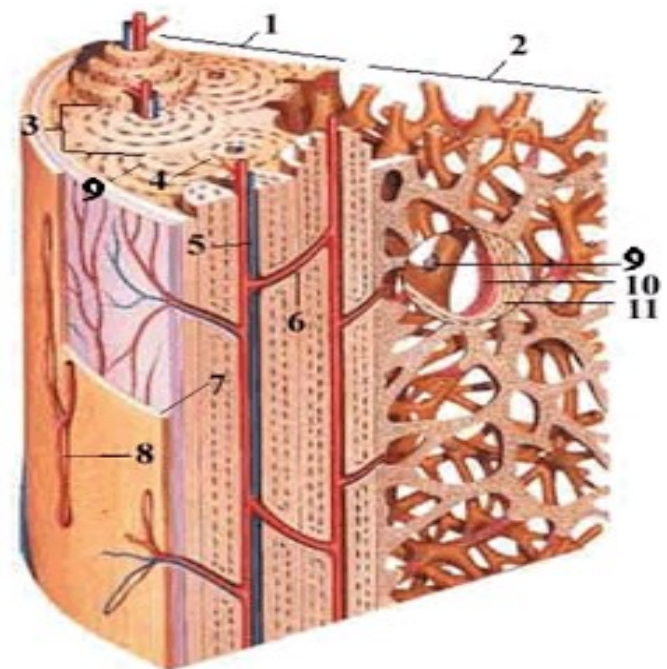
1. Realiza una clasificación completa de las membranas corporales indicando su estructura y función (no desarrollar la piel)
2. Explica las siguientes estructuras accesorias:
A. Pelo B. Uñas C. Glándulas
3. Explica las funciones de la piel.
4. Completa el esquema A.

T6: Sistema esquelético

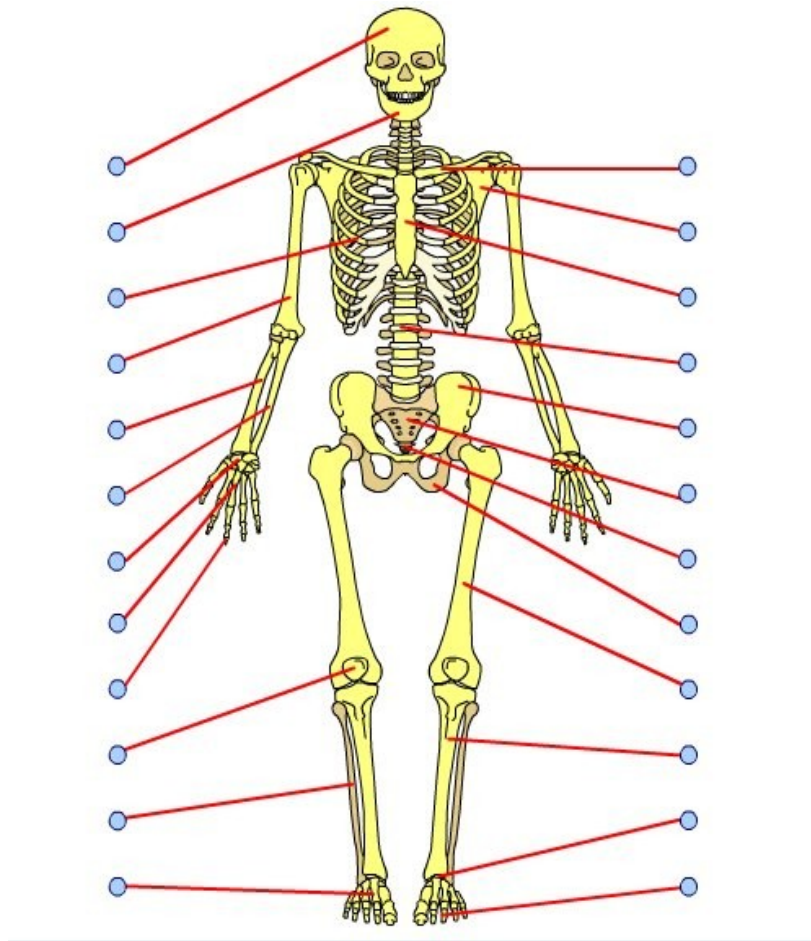
1. Funciones del sistema esquelético
2. Tipos de huesos
3. Explica la osificación endocondral
4. Completa los esquemas B, C, D y E.

Esquema B: _____

- 1.
- 2.
- 3.
- 4.
- 5.
- 6.
- 7.
- 8.
- 9.
- 10.
- 11.



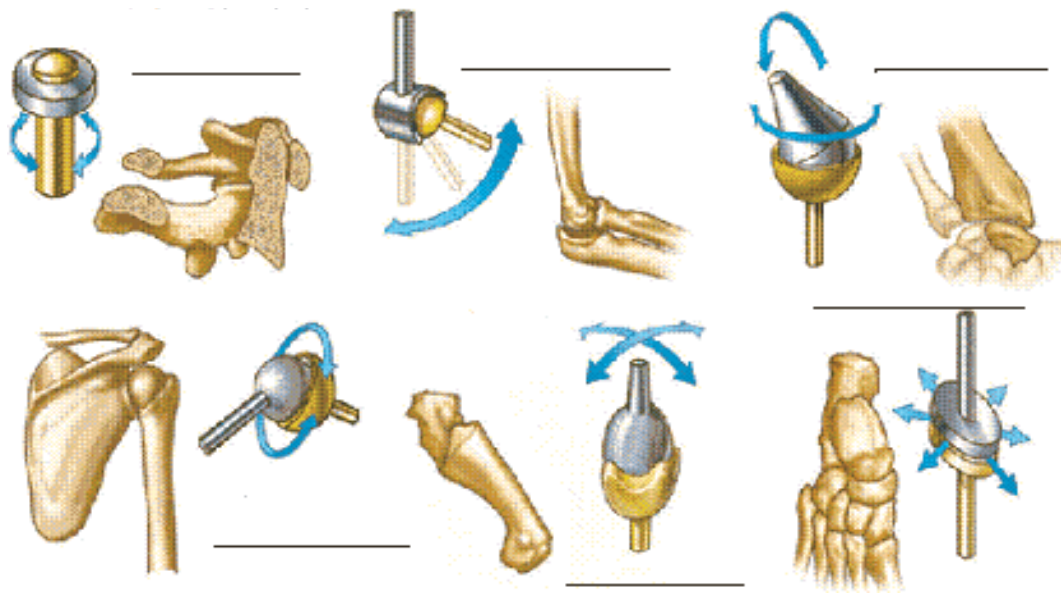
Esquema C: _____



Esquema D: _____



Esquema E: _____



Esquema A: _____

